

ΜΑΘΗΜΑΤΙΚΑ [ΚΕΦ. 23]

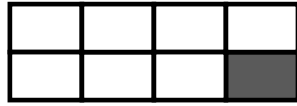
ΚΛΑΣΜΑΤΙΚΕΣ ΜΟΝΑΔΕΣ

1. Τι μέρος κάθε σχήματος είναι χρωματισμένο;

Γράφω το κατάλληλο κλάσμα:



↺ —



↺ —

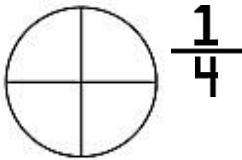


↺ —

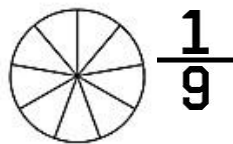


↺ —

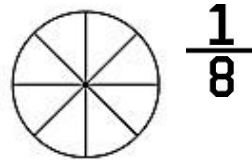
2. Χρωματίζω το μέρος του σχήματος που λέει κάθε κλάσμα:




$\frac{1}{4}$



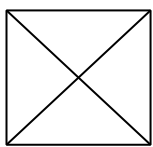
$\frac{1}{9}$



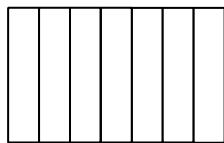
$\frac{1}{8}$



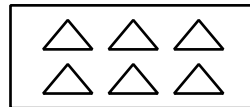
$\frac{1}{5}$



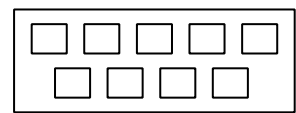
$\frac{1}{4}$



$\frac{1}{7}$



$\frac{1}{6}$



$\frac{1}{9}$

3. Συμπληρώνω τις λέξεις ή τους αριθμούς που λείπουν □

$\frac{1}{2}$ ↔

$\frac{1}{4}$ ↔

↔ — Ένα

↔ δωδέκατο Ένα εικοστό

$\frac{1}{9}$ ↔
↔ Ένα έβδομο

.....

4. Βρίσκω το αποτέλεσμα:

$$\begin{array}{r} 347 \\ - 96 \\ \hline \end{array}$$

$$\begin{array}{r} 254 \\ + 258 \\ \hline \end{array}$$

$$\begin{array}{r} 397 \\ - 79 \\ \hline \end{array}$$

$$\begin{array}{r} 129 \\ + 439 \\ \hline \end{array}$$

$$481 - 158$$

