

Όνομα \_\_\_\_\_

## Προσθέσεις, αφαιρέσεις και πολλαπλασιασμοί

1. Γράφω τους αριθμούς και κάνω τις πράξεις

$1.382+1.269=$

_____
-------

$2.147+828=$

_____
-------

$2.192+775=$

_____
-------

$1.329+871=$

_____
-------

$2.155+638=$

_____
-------

$1.629+1.164=$

_____
-------

$1.500-234=$

_____
-------

$2.854-1.281=$

_____
-------

$2.458-1.189=$

_____
-------

$1.703-1.254=$

_____
-------

$2.809-2.467=$

_____
-------

$1.000-285=$

_____
-------

2. Κάνε τις πράξεις κάθετα:

$$\begin{array}{r} 45 \\ \times 13 \\ \hline \end{array}$$

$$\begin{array}{r} 56 \\ \times 27 \\ \hline \end{array}$$

$$\begin{array}{r} 67 \\ \times 18 \\ \hline \end{array}$$

$$\begin{array}{r} 81 \\ \times 59 \\ \hline \end{array}$$

$$\begin{array}{r} 78 \\ \times 36 \\ \hline \end{array}$$

$$\begin{array}{r} 34 \\ \times 37 \\ \hline \end{array}$$

$$\begin{array}{r} 74 \\ \times 59 \\ \hline \end{array}$$

$479+136=$

$817+133=$

$651+349=$

$319+681=$

$391-175=$

$193-178=$

$572-392=$

$860-197=$

$500-345=$

$600-257=$

$800-721=$

$200-188=$






## Προβλήματα

1. Ένας φρουτοπαραγωγός πούλησε στην αγορά 350 κιλά μήλα 165 κιλά αχλάδια και 285 κιλά πορτοκάλια. Πόσα κιλά φρούτα πούλησε στην αγορά;



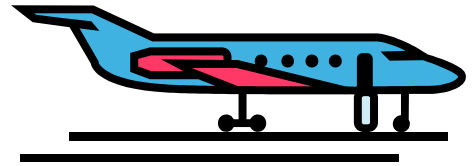


Απάντηση :.....

2. Η Κατερίνα είχε στον κουμπαρά της 250 €. Δάνεισε στον αδερφό της 185€ για ν' αγοράσει ένα καινούριο ποδήλατο. Πόσα χρήματα της έμειναν στον κουμπαρά;



Απάντηση :.....

3. Ένα αεροπλάνο έχει 587 θέσεις. Στο πρωινό του δρομολόγιο ταξίδεψαν 230 άντρες, 158 γυναίκες και 15 παιδιά. Πόσες θέσεις έμειναν άδειες;



Απάντηση :.....