

ΟΝΟΜΑ :

ΗΜΕΡΟΜΗΝΙΑ:

ΜΑΘΗΜΑΤΙΚΑ ΚΕΦ 5

Πόσα πόδια έχει ...

1 μέλισσα : $1 \times 6 = 6$

3 μέλισσες : $3 \times \dots$

6 μέλισσες :

9 μέλισσες :

5 μέλισσες :

4 μέλισσες :

2 μέλισσες :

10 μέλισσες :

7 μέλισσες :

8 μέλισσες :



Πόσα παιδιά έχει ...

(δες την εικόνα)

1 τάξη : $1 \times 7 = 7$

3 τάξεις : $3 \times \dots$

6 τάξεις :

9 τάξεις :

5 τάξεις :

4 τάξεις :

2 τάξεις :

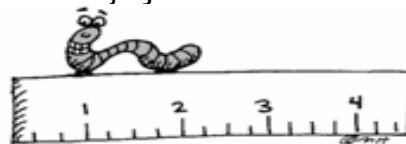
10 τάξεις :

7 τάξεις :

8 τάξεις :



α) Ανεβαίνω 6...6 και κατεβαίνω 6...6:



6	12								
60			42						


Αντιστοιχίζω σωστά:

- 3 x 6
- 6 x 6
- 9 x 2
- 8 x 3
- 9 x 4
- 4 x 6

- 18
- 24
- 36

β. Σκέφτομαι και συμπληρώνω την προπαίδεια του 6:

___ x 6 = 42 ___ x 6 = 54 ___ x 6 = 48 ___ x 6 = 36 ___ x 6 = 24



ΠΡΟΒΛΗΜΑΤΑ

1. Η κυρία Φωτεινή αγόρασε 4 εξάδες αυγά. Πόσα αυγά αγόρασε;

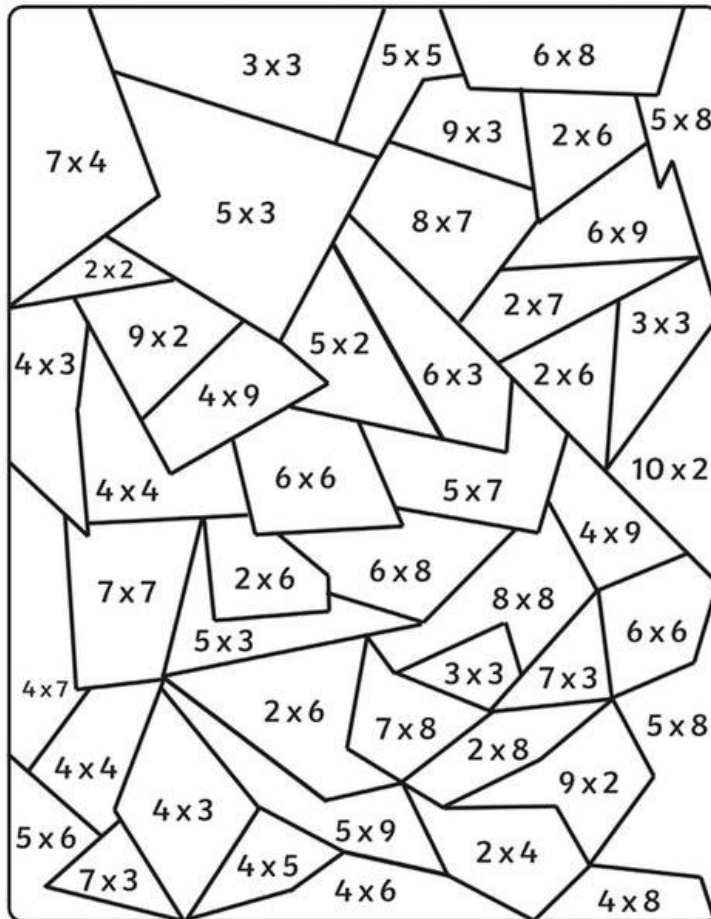
Λύση:

Απάντηση:.....

2. Ένα καλάθι είναι γεμάτο με μήλα και αχλάδια. Τα αχλάδια είναι 5, ενώ τα μήλα είναι εφταπλάσια από τα αχλάδια. Πόσα μήλα υπάρχουν στο καλάθι;

Λύση:

Απάντηση:.....



Βρες τα αποτελέσματα και
μετά βάλτε τους αριθμούς
0-10 γαλάζιο
11-20 μοβ
21-30 ροζ
31-40 κίτρινο
41-50 πράσινο
51-6- πορτοκαλί
61-70 σκούρο μπλε

Άραγε τι σχέδιο θα
προκύψει;